

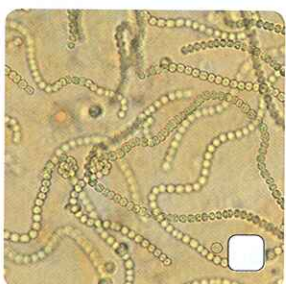




Actividades



Recupera información

- 1 Marca con ▲ los organismos productores, con * los organismos consumidores y con ○ los organismos descomponedores.






- 2 Con base en la siguiente lista de seres vivos, elabora por lo menos tres cadenas tróficas:

- | | | |
|--------|------------------|------------|
| Focas | Fitoplancton | Algas |
| Orcas | Zooplancton | Lapas |
| Pulpos | Pingüinos | Mejillones |
| Peces | Gaviotas | Cangrejos |
| | Estrellas de mar | |


Cadena 1	Cadena 2	Cadena 3

- 3 Observa las imágenes de estos seres vivos y forma, a partir de ellas, parejas de predador-presa.



Las parejas son: _____

- 4 Dibuja una red trófica a partir de la imagen.



- 5 En los ecosistemas se produce una transferencia de biomasa de un nivel a otro. Elige la pirámide trófica que mejor representa esa transferencia y escribe en ella los niveles tróficos.